

Modular Employable Skills

Assessment Body:- Sai Graphics Mes, 2nd Floor Shyam Arcade Malviya Chowk, Jabalpur(M.P.)

Student Name:- Father Name:-

VTP Name:- Assessment Date:-

TCA/DCA:-..... Batch Number:-

Student Signature:-..... Assessor Signature:-.....

Modular Employable Skills Garment Making

खण्ड-क

समय: ३० मिनट

सही उत्तर पर सही (✓) का चिन्ह लगाओ।

प्रति प्रश्न १ अंक

प्र०१ पेंच का काम किसके द्वारा होता है?

१. विशेष कपड़ा २. विशेष औज़ार ३. विशेष सुई ४. विशेष पेपर।

उत्तर _____

प्र०२ पेंच का कार्य मुख्य रूप से कहां प्रयोग होता है?

१. यूरोप २. भारत ३. नेपाल ४. अमेरिका

उत्तर _____

प्र०३ पेंच कार्य क्या है?

१. सुई कला २. कागज कला ३. कपड़ा कला ४. आभूषण कला।

उत्तर _____

प्र०४ आधुनिक पेंच कार्य पाय: किसकी तरह प्रयोग होता है?

१. क्रिएटिव पेपर वर्क २. क्रिएटिव ज़रडोजी ३. क्रिएटिव पेपर क्राफ्ट ४. क्रिएटिव होबी।

उत्तर _____

प्र०५ पेंच कार्य मुख्य रूप से किया जाता है?

१. सूती कपड़े पर २. शैफलॉन पर ३. रेशम पर ४. इनमें से कोई नहीं

उत्तर _____

प्र०६ ज़रदोजी कार्य कठिन होने के कारण कपड़ा होना चाहिए?

१. हल्के वज़न का २. मोटा ३. जालीदार ४. इनमें से कोई नहीं

उत्तर _____

प्र०७ मुख्य पेंच कार्य किस पृष्ठभूमि पर होता है

१. शीशा २. सिक्वून्स ३. आभूषण ४. ज़रदोजी।

उत्तर _____

प्र०८ नीचे दर्शाये गये औज़ार का नाम लिखिए

१. कड़ाई सूई २. बैल पिन ३. मशीन की सूई ४. सेफ्टी पिन

उत्तर _____

प्र०९ आरी वर्क कहलाता है?

१. बीड कार्य २. डबका कार्य ३. जरी कार्य ४. इनमें से कोई नहीं

Modular Employable Skills

Assessment Body:- Sai Graphics Mes, 2nd Floor Shyam Arcade Malviya Chowk, Jabalpur(M.P.)

उत्तर _____

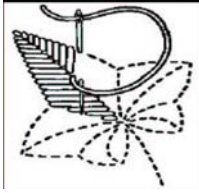
प्र०१० नीचे दर्शाये गये टाँके को पहचानिए

१. स्टेम स्टिच

२. फ्रेन्च नॉट

३. सेटिन स्टिच

४. चैन स्टिच



निम्नलिखित प्रश्नों के उत्तर संक्षेप में दीजिए-

प्रति प्रश्न-२ अंक

प्र०११ पेंच कार्य के दो आवश्यक मैटेरियल के नाम लिखो?

उत्तर _____

प्र०१२ पेंच के किन्ही मुख्य दो प्रकारों की विधि लिखो?

उत्तर _____

प्र०१३ कढ़ाई कार्य करने के लिए क्या-क्या सामान का प्रयोग किया जाता है?

उत्तर _____

प्र०१४ पेंच कार्य के बारे में लिखिए?

उत्तर _____

प्र०१५ पेंच कार्य के दो मुख्य लेख लिखो?

उत्तर _____

प्र०१६ पेंच कार्य का मुख्य प्रभाव क्या है?

उत्तर _____

प्र०१७ पेंच कार्य में प्रयोग होने वाले किसी एक मुख्य फैक्टर का वर्णन करो? ५

उत्तर _____


Modular Employable Skills

Assessment Body:- Sai Graphics Mes, 2nd Floor Shyam Arcade Malviya Chowk, Jabalpur(M.P.)

प्र०१८ मॉडर्न पेंच के दो मुख्य प्रकार लिखिए?


उत्तर _____

प्र०१९ निम्नलिखित टाँको के नाम लिखो।



उत्तर _____

प्र०२० निम्नलिखित औज़ारों के नाम लिखो।



उत्तर _____

निम्नलिखित प्रश्नों के उत्तर विस्तार से लिखिए-

प्रति प्रश्न-५अंक

प्र. २१ पेंच के कार्य में कौन कौन से धागे प्रयोग किये जाते हैं?

उत्तर _____

प्र.२२ ज़रदोसी और पेंच वर्क में क्या अंतर है?

उत्तर _____

प्र.२३ सूट में पेंच वर्क करने की विधि लिखिए?

उत्तर _____

प्र.२४ ज़रदोसी कार्य में प्रयोग होने वाले कपड़े के नाम लिखो ?

उत्तर _____
